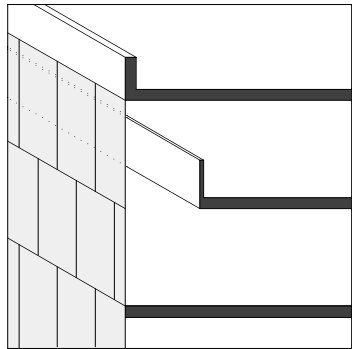


# K03 «Schichtenriss»

Aufgabe zur Vorlesung K03



Bauweise?

.....

Fassade  
tragend/nichttragend?

.....

## FASSADENAUFBAU HOMOGEN, M. 1/50

Konstruktion?

.....

.....

.....

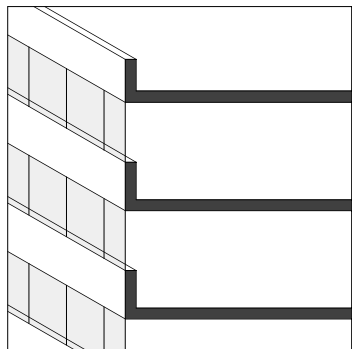
## FASSADENAUFBAU HETEROGEN, M. 1/50

Konstruktion?

.....

.....

.....



Bauweise?

.....

Fassade  
tragend/nichttragend?

.....

Konstruktion?

.....

.....

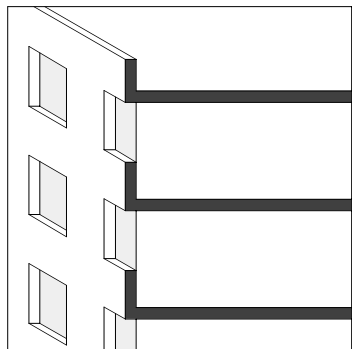
.....

Konstruktion?

.....

.....

.....



Bauweise?

.....

Fassade  
tragend/nichttragend?

.....

Konstruktion?

.....

.....

.....

Konstruktion?

.....

.....

.....

### Gebäudehülle

In den drei schematisch dargestellten Gebäuden steht die Gestaltung und Konstruktion der Gebäudehülle in direktem Zusammenhang mit der Baustruktur.

Definieren Sie eine mögliche Bauweise des jeweiligen Gebäudes. Legen Sie dementsprechende Fassadenkonstruktionen fest, wobei Sie unterscheiden zwischen homogenen und heterogenen Fassadenkonstruktionen. Zeichnen Sie pro Beispiel zwei sinnvolle Konstruktionen der Gebäudehülle in das Schema des Schichtenrisses.